



1. feladat

- (a) A feladat megadta a Naprendszer esetében a lakhatósági zóna határait, jelölje ezeket d_1 és d_2 . A továbbiakban feltételezzük, hogy a csillag által kibocsátott sugárzás a tér minden irányában azonos és így egy gömbfelület mentén egyenletesen oszlik el. Így a beérkező sugárzási teljesítmény optimális alsó és felső határai:

$$P_{\max} = \frac{L}{4\pi d_1^2} = \frac{kM^{3,5}}{4\pi d_1^2}; \quad (1)$$

$$P_{\min} = \frac{L}{4\pi d_2^2} = \frac{kM^{3,5}}{4\pi d_2^2}. \quad (2)$$

Az 5 naptömegű bolygó esetén ez alapján a zóna belső és külső határai (d'_1 és d'_2):

$$d_1'^2 = \frac{k(5M)^{3,5}}{4\pi P_{\max}} = 5^{3,5} \cdot \frac{kM^{3,5}}{4\pi P_{\max}} = 5^{3,5} \cdot d_1^2 \quad (3)$$

$$d_2'^2 = \frac{k(5M)^{3,5}}{4\pi P_{\min}} = 5^{3,5} \cdot \frac{kM^{3,5}}{4\pi P_{\min}} = 5^{3,5} \cdot d_2^2. \quad (4)$$

A megadott adatokat behelyettesítve:

$$d_1' = \sqrt{5^{3,5} \cdot (0,97 \text{ CsE})^2} = \mathbf{16,22 \text{ CsE}}; \quad (5)$$

$$d_2' = \sqrt{5^{3,5} \cdot (1,37 \text{ CsE})^2} = \mathbf{22,9 \text{ CsE}}. \quad (6)$$

- (b) Az ellipszispálya excentricitása 0,2, nagytengelyének fele $a = 4 \text{ CsE}$, így a fókuszok távolságának fele $c = 0,2 \cdot 4 \text{ CsE} = 0,8 \text{ CsE}$, és ebből a fél kistengelye $b = \sqrt{a^2 - c^2} = \sqrt{(4 \text{ CsE})^2 - (0,8 \text{ CsE})^2} = 3,92 \text{ CsE}$.

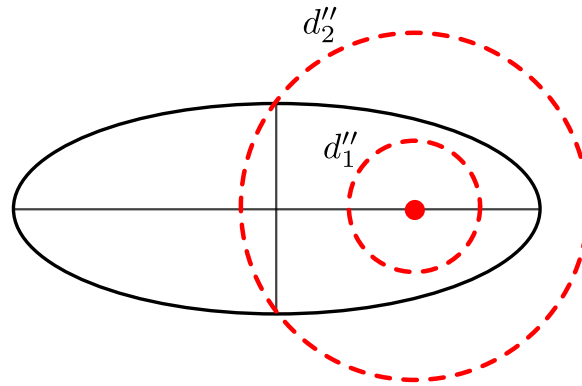
Az (a) feladatrészen felhasznált első és második egyenletből kapható, hogy az itteni lakhatósági zóna határokra (d''_1 és d''_2) vonatkozóan:

$$\frac{d_1''^2}{d_2''^2} = \frac{P_{\min}}{P_{\max}}. \quad (7)$$

Innen pedig megkapható az itteni lakhatósági zóna belső határa:

$$d_1'' = \sqrt{\frac{P_{\min}}{P_{\max}} \cdot d_2''^2} = \sqrt{\frac{d_1^2}{d_2^2} \cdot d_2''^2} = \frac{d_1}{d_2} \cdot d_2'' = \frac{0,97 \text{ CsE}}{1,37 \text{ CsE}} \cdot 4 \text{ CsE} = 2,83 \text{ CsE}. \quad (8)$$

A fentiekből megállapítható, hogy a lakhatósági zóna külső, illetve belső határa egy-egy kör mentén húzódik, melyeknek középpontja az ellipszispálya egyik fókusza (ahol a csillag van), sugara pedig d_2'' illetve d_1'' . Így a külső határ köre éppen a kistengely végpontjában metszi az ellipszist (a 1 ábrán látható módon), a belső határ pedig nem metszi azt. Ebből



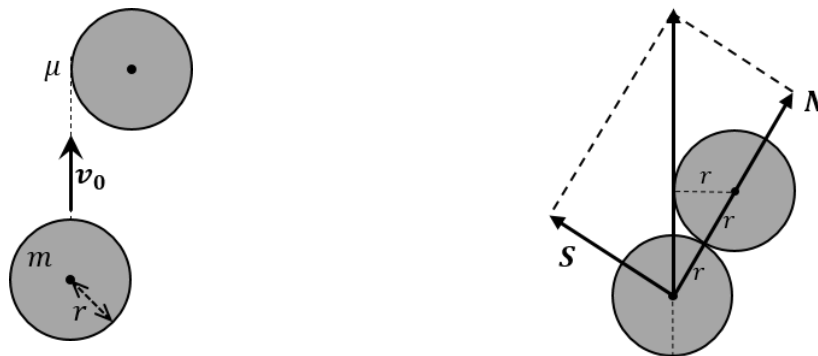
1. ábra. A bolygó elliptikus pályája, a külső és belső lakhatósági zónák határaival.

adódóan a bolygót mindig P_{\max} -nál kisebb sugárzási teljesítmény éri, csupán az a kérdés, az idő hányad részében lesz a zóna külső határán belül.

Kepler II. törvényét felhasználva kapható, hogy a benn töltött idő úgy aránylik az összeshez, mint a vezérsugár által súrolt terület az ellipszis teljes területéhez. A zónán belüli terület egy félellipszis, és egy háromszög területének különbsége: $T_{\text{bent}} = \frac{1}{2}ab\pi - \frac{1}{2}2bc$. A teljes ellipszis terület pedig $T_{\text{teljes}} = ab\pi$. A kettő aránya éppen a kérdéses időarány:

$$\frac{T_{\text{bent}}}{T_{\text{teljes}}} = \frac{\frac{1}{2}ab\pi - \frac{1}{2}2bc}{ab\pi} = \frac{1}{2} - \frac{bc}{ab\pi} = \frac{1}{2} - \frac{c}{a} \frac{1}{\pi} = \frac{1}{2} - 0,2 \frac{1}{\pi} \approx \mathbf{0,436} \quad (9)$$

2. feladat



2. ábra. Korongok az ütközés előtt és az ütközés pillanatában.

- (a) A korongok az ütközés előtt a fenti 2. ábra baloldali ábráján látható módon helyezkednek el. Ütközéskor rövid Δt időpillanatra a korongok között N nyomóerő lép fel, amely $N\Delta t$ impulzusváltozást hoz létre a korongok tömegközéppontjait összekötő egyenes irányában (az egyes korongok esetében ezen erőlkedések ellentétes irányúak). Ezzel együtt csúszási



súrlódás is fellép, amely $S = \mu N$ nagyságú, így $\mu N \Delta t$ erőlkést eredményez a korongok közös érintőjének irányában. A két erőlkés okozta impulzusváltozás együtt az eredeti irányba mozdítja el a kezdetben álló korongot, így a jobb oldali ábrán látható módon a feladat geometriájából adódóan

$$\tan 30^\circ = \frac{\mu N \Delta t}{N \Delta t}. \quad (10)$$

Innen pedig a csúszási súrlódási együttható: $\mu = \tan 30^\circ = \frac{1}{\sqrt{3}}$.

- (b) A feladat szerint a két korong az ütközés után azonos nagyságú és irányú sebességgel (és impulzussal) halad tovább, így az impulzusegmaradás törvénye alapján az ütközés utáni sebesség $v_0/2$. A nyomóerő és súrlódási erő okozta eredő erőlkés okozta ezt az impulzusváltozást, így a 2 jobboldali ábrájának geometriáját felhasználva:

$$\frac{N \Delta t}{\cos 30^\circ} = m \frac{v_0}{2}. \quad (11)$$

Következésképpen

$$N \Delta t = \frac{\sqrt{3}}{4} m v_0. \quad (12)$$

Ütközéskor a súrlódási erő a korongokra forgatónyomatékat fejt ki, melynek hatására azok forgásba jönnek. Rövid Δt idő alatt az ennek hatására létrejövő perdület nagysága $r S \Delta t$, ami a korábbiak alapján:

$$\Theta \omega = r S \Delta t = r \mu N \Delta t = r \frac{1}{\sqrt{3}} \frac{\sqrt{3}}{4} m v_0 = \frac{1}{4} m r v_0. \quad (13)$$

Felhasználva, hogy a korongok esetén $\Theta = \frac{1}{2} m r^2$, kapjuk, hogy $\omega = \frac{v_0}{2r}$.

Az ütközés közben fejlődött hő az energiamegmaradás törvényéből számíthatjuk ki:

$$E_{\text{halad},1} = E_{\text{halad},2} + E_{\text{forg},2} + Q. \quad (14)$$

Ebből kifejezve a keletkező hőt kapjuk, hogy

$$Q = \frac{1}{2} m v_0^2 - 2 \cdot \frac{1}{2} m \left(\frac{v_0}{2}\right)^2 - 2 \cdot \frac{1}{2} \left(\frac{1}{2} m r^2\right) \left(\frac{v_0}{2r}\right)^2 = \frac{m v_0^2}{2} - \frac{m v_0^2}{4} - \frac{m v_0^2}{8} = \frac{m v_0^2}{8} \\ = \frac{1}{8} \cdot 0,16 \text{ kg} \cdot \left(20 \frac{\text{m}}{\text{s}}\right)^2 = \mathbf{8 \text{ Joule}} \quad (15)$$

3. feladat

- (a) A kondenzátor felső és alsó, $L/2 + x$ illetve $L/2 - x$ hosszúságú részét tekinthetjük két különálló, egymással párhuzamosan kapcsolt kondenzátornak, amelyeknek kapacitásai $C_1 = \epsilon_0 \epsilon_r \frac{L(L/2+x)}{d}$ illetve $C_2 = \epsilon_0 \frac{L(L/2-x)}{d}$. Az eredő kapacitás tehát

$$C(x) = C_1 + C_2 = \underbrace{\frac{\epsilon_0 L^2}{2d}}_{C_0} (1 + \epsilon_r) + \underbrace{\frac{\epsilon_0 L}{d}}_{\alpha} (\epsilon_r - 1) x. \quad (16)$$



- (b) Tegyük fel, hogy kezdetben a dielektrikum valamilyen x_0 helyzetben van, amelyre teljesül hogy $C(x_0) = Q/U$. Kezdjük Béla képletével. Ekkor az energia megváltozása, ha a dielektrikum helyzetét a kezdeti x_0 -hoz valamilyen kis δx hosszúságnival megváltoztatjuk, $\delta \bar{E}_B = \frac{U^2}{2} \alpha \delta x$. Az ebből a munkatétellel származtatott erő az x_0 pontban $F_B(x_0) = -\frac{U^2}{2} \alpha$.

Anna esetében az energiaváltozás meghatározásához felhasználhatjuk a megadott képletet ($1/(1 + \epsilon) \approx 1 - \epsilon$). Jelölje $\delta C = C(x_0 + \delta x) - C(x_0) = \alpha \delta x$ a kapacitás megváltozását. Ekkor megfelelően kicsi δx elmozdulás esetén

$$\bar{E}_A(x_0 + \delta x) = \frac{Q^2}{2} \frac{1}{C + \delta C} = \frac{Q^2}{2C} \frac{1}{1 + \delta C/C} \approx \frac{Q^2}{2C} \left(1 - \frac{\delta C}{C}\right).$$

Az ebből származó energiaváltozás tehát $\delta \bar{E}_A(x_0) = -\frac{Q^2}{2C(x_0)^2} \alpha \delta x$. Felhasználva hogy $Q/C(x_0) = U$, az erőre az $F_A(x_0) = \frac{U^2}{2} \alpha$ képletet kapjuk, ami valóban éppen -1 -szerese a Béla által javasoltnak.

- (c) Az Anna és Béla által kapott képletek közötti különbség oka, hogy míg Anna azt feltételezte, hogy a kondenzátor Q töltését veheti állandónak, addig Béla a kondenzátorlapok közötti U feszültséget tekinti annak. Amiről azonban Béla megfeledezett az az, hogy az állandó feszültség fenntartásához a kondenzátort egy telepre kell csatlakoztatnunk, ekkor pedig a telep energiáját is számításba kell vennünk az energia meghatározásánál: így tehát Béla képlete hiányos.

A telepnek, ahhoz hogy az állandó feszültséget fenntartsa miközben a dielektrikumot mozgatjuk, töltéseket kell a kondenzátorra felvinnie. Tegyük fel hogy a dielektrikumot egy kis δx távolsággal elmozdítjuk: jelöljük az eközben átvitt töltést δQ -val. Ekkor a telep által végzett munka, illetve az ehhez tartozó energiaváltozás $U \delta Q$. Ennek megfelelően ha Béla figyelembe vette volna a telepet is, akkor az alábbi képletet kellett volna írnia az energia megváltozására:

$$\delta \bar{E}_B(x) = \frac{U^2}{2} \delta C - U \delta Q. \quad (17)$$

Állandó feszültség mellett a δQ átvitt töltést kifejezhetjük a kapacitás megváltozásával mint $\delta Q = U \delta C$. Ezt figyelembe véve a fenti képlet leegyszerűsíthető:

$$\delta \bar{E}_B(x) = -\frac{U^2}{2} \delta C. \quad (18)$$

Ez éppen -1 -szerese a Béla által eredetileg felírt képletnek, így az ebből kapott erő immár megegyezik az Anna által számolttal.

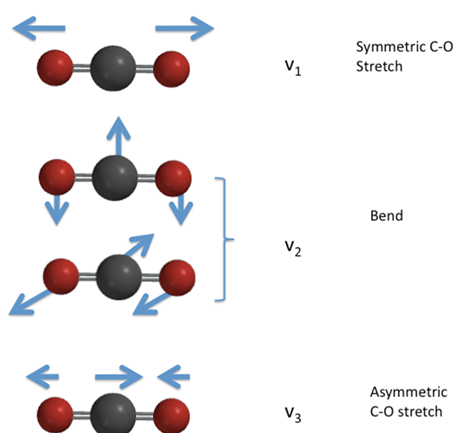
4. feladat

- (a) Minden atomnak 3 mozgási szabadságfoka van, így a teljes molekula $3 \cdot 3 = 9$ szabadsági fokkal rendelkezik. A szabadsági fokok közül nem rezgés a 3 különböző irányú transzlációs



mozgás és a molekula tengelyére (z -re) merőleges két tengely (x és y) körüli forgatás. Ez az 5 (transzlációs+forgási) szabadsági fok hőtanban is felbukkan lineáris/két atomos molekulák esetén. Azaz $9-5=4$ rezgési szabadsági fok marad.

(b) A lehetséges rezgési módusok a 3. ábrán láthatóak.



3. ábra. CO₂ molekula rezgési módusai.

A hozzájuk tartozó kitérés vektorok:

rezgés típusa	O	C	O
szimmetrikus, lineáris	$u_1 \cdot \vec{e}_z$	0	$-u_1 \cdot \vec{e}_z$
aszimmetrikus, lineáris	$u_1 \cdot \vec{e}_z$	$-u_1 \frac{2M}{m} \cdot \vec{e}_z$	$u_1 \cdot \vec{e}_z$
Torzió x	$u_1 \cdot \vec{e}_x$	$-u_1 \frac{2M}{m} \cdot \vec{e}_x$	$u_1 \cdot \vec{e}_x$
Torzió y	$u_1 \cdot \vec{e}_y$	$-u_1 \frac{2M}{m} \cdot \vec{e}_y$	$u_1 \cdot \vec{e}_y$

Ahol m a szén és M az oxigén atom tömege.

(c) Az alábbiakban bebizonyítjuk, hogy a megtalált szimmetrikus és aszimmetrikus módus normál módus. Hogy ezt bizonyítsuk megmutatjuk, hogy létezik egy ω frekvenciájú rezgő mozgás, amely során a rugókban ébredő erő pontosan a harmonikus mozgásban tartáshoz szükséges erő.

Szimmetrikus

Harmonikus rezgőmozgás esetén az atomok helyzete, illetve a harmonikus mozgáshoz szükséges kényszer erők:

	$x(t)$	$F_h(t)$
O	$A \cdot \sin(\omega t)$	$-AM\omega^2 \cdot \sin(\omega t)$
C	0	0
O	$-A \cdot \sin(\omega t)$	$AM\omega^2 \cdot \sin(\omega t)$



A rugók összenyomódása:

$$\Delta x_1 = A \cdot \sin(\omega t) \quad (21)$$

$$\Delta x_2 = A \cdot \sin(\omega t) \quad (22)$$

Így az ébredő rugó erők:

$$F_{r1} = A \cdot D \cdot \sin(\omega t) \quad (23)$$

$$F_{r2} = A \cdot D \cdot \sin(\omega t) \quad (24)$$

Így az atomokra ható erők:

F_O	F_C	F_O	(25)
$-F_{r1} = -A \cdot D \cdot \sin(\omega t)$	$F_{r1} - F_{r2} = 0$	$F_{r2} = A \cdot D \cdot \sin(\omega t)$	

Látható, hogy $\omega = \sqrt{\frac{D}{M}}$ esetén a rugó erők megfelelnek a harmonikus rezgő mozgás kényszererőivel.

Aszimmetrikus

Harmonikus rezgőmozgás esetén az atomok helyzete, illetve a harmonikus mozgáshoz szükséges kényszer erők:

	$x(t)$	$F_h(t)$	(26)
<i>O</i>	$A \sin(\omega t)$	$-AM\omega^2 \sin(\omega t)$	
<i>C</i>	$-\frac{2M}{m}A \sin(\omega t)$	$2MA\omega^2 \sin(\omega t)$	
<i>O</i>	$A \sin(\omega t)$	$AM\omega^2 \sin(\omega t)$	

A rugók összenyomódása:

$$\Delta x_1 = A \sin(\omega t) + \frac{2M}{m}A \sin(\omega t) \quad (27)$$

$$\Delta x_2 = -A \sin(\omega t) - \frac{2M}{m}A \sin(\omega t) \quad (28)$$

Így az ébredő rugó erők:

$$F_{r1} = AD \sin(\omega t) + \frac{2M}{m}AD \sin(\omega t) \quad (29)$$

$$F_{r2} = -AD \sin(\omega t) - \frac{2M}{m}AD \sin(\omega t) \quad (30)$$



Így az atomokra ható erők:

$$\begin{array}{|c|c|c|} \hline F_O & F_C & F_O \\ \hline -F_{r1} = -AD \sin(\omega t) \frac{m+2M}{m} & F_{r1} - F_{r2} = 2AD \sin(\omega t) \frac{m+2M}{m} & F_{r2} = AD \sin(\omega t) \frac{m+2M}{m} \\ \hline \end{array} \quad (31)$$

Látható, hogy $\omega = \sqrt{\frac{D(m+2M)}{mM}}$ esetén a rugó erők megfelelnek a harmonikus rezgő mozgás kényszererőivel.

- (d) Az előző számítások során megkaptuk a normál rezgésekhez tartozó frekvenciát.
- (e) A fenti számításokból látható, hogy a szimmetrikus rezgéshez tartozik kisebb frekvencia. Felhasználva, hogy a direkciós erő (ω -n keresztül) kifejezhető a frekvenciával és az atomtömegekkel:

$$D_{szimm} = (2\pi\nu)^2 \cdot M = 1,36 \cdot 10^3 \frac{\text{N}}{\text{m}} \quad (32)$$

$$D_{aszimm} = (2\pi\nu)^2 \cdot \frac{mM}{m+2M} = 1,42 \cdot 10^3 \frac{\text{N}}{\text{m}} \quad (33)$$

Mivel a modellünk alapján a két direkciós állandónak azonosnak kéne lennie, így azt állíthatjuk, hogy a direkciós állandó: $D = (1.39 \pm 0.03) \cdot 10^6 \frac{\text{N}}{\text{m}}$.

5. feladat

- (a) Vegyük fel a koordinátarendszert úgy, hogy a vonaltöltések a z irányban helyezkedjenek el, a középpontjaik pedig az x tengely mentén, úgy hogy a töltések helye az $x-y$ síkban $(\pm l, 0)$ koordinátáknak felel meg. A két vonaltöltés elektromos potenciálja az (x, y) koordinátájú pontban $U_{\pm}(x, y) = \pm \frac{\lambda}{2\pi\epsilon_0} \ln(\sqrt{(x \pm l)^2 + y^2}) + \text{konstans}$. A teljes potenciál ezen kettő összege (szuperpozíciója):

$$U(x, y) = U_+(x, y) + U_-(x, y) = \frac{\lambda}{2\pi\epsilon_0} \ln \left(\frac{\sqrt{(x+l)^2 + y^2}}{\sqrt{(x-l)^2 + y^2}} \right) + \text{konstans}. \quad (34)$$

Az ekvipotenciális felületeket az alábbi egyenlet határozza meg:

$$\frac{\sqrt{(x+l)^2 + y^2}}{\sqrt{(x-l)^2 + y^2}} = e^{\frac{2\pi\epsilon_0 U}{\lambda}} \equiv k = \text{konst}. \quad (35)$$

Négyzetre emelve majd beszorozva a nevezővel, néhány algebrai átalakítás után a fenti egyenlet a következő alakra hozható:

$$\left(x - l \frac{k^2 + 1}{k^2 - 1} \right)^2 + y^2 = l^2 \frac{4k^2}{(k^2 - 1)^2}. \quad (36)$$

Az ekvipotenciális felületek tehát a z tengellyel párhuzamos hengerek, amelyeknek sugara $R = l \left| \frac{2k}{k^2 - 1} \right|$, középpontja pedig az $x-y$ síkban $(x, y) = (d, 0)$, ahol $d = l \frac{k^2 + 1}{k^2 - 1}$.



- (b) Mint fent láttuk, két ellentétes töltésűsűségű vonaltöltés terében az ekvipotenciálisok henger alakúak. A két vezető hengerből álló rendszer kapacitását tehát meghatározhatjuk úgy, hogy a hengereket olyan vonaltöltésekkel helyettesítjük, amelyeknek két ekvipotenciális felülete egybeesik a hengerek palástjával. Vegyük észre, hogy ha az egyik henger U potenciálon van akkor a másik $-U$ -nak felel meg, hiszen $k(-U) = 1/k(U)$ és a fenti képleteknek megfelelően $d(1/k) = -d(k)$, valamint $R(1/k) = R(k)$. A két henger közötti feszültség (potenciálkülönbség) tehát $2U$. A hengereken lévő töltésűsűségnek meg kell egyeznie a vonalak töltésűsűségével ahhoz, hogy a megfelelő elektromos teret hozzák létre, így a kapacitás nem más mint

$$C = \frac{\lambda}{2U} = \frac{\pi\epsilon_0}{\ln(k)}, \quad (37)$$

ahol felhasználtuk az (35) egyenletet.

Még hátravan az, hogy kifejezzük a k paramétert a hengereket jellemző R és d paraméterekkel. Az előző feladatrészt eredményeit felhasználva kapjuk az alábbi összefüggéseket:

$$d^2 - R^2 = l^2 \qquad \frac{d+l}{R} = k, \quad (38)$$

ahol $2l$ a (fiktív) vonaltöltések távolsága. E kettőt kombinálva azt kapjuk, hogy

$$k = d/R + \sqrt{d^2/R^2 - 1}. \quad (39)$$

Ezt behelyettesítve a (37) egyenletbe, kapjuk a kívánt eredményt:

$$C = \frac{\pi\epsilon_0}{\ln\left(\frac{d}{R} + \sqrt{\left(\frac{d}{R}\right)^2 - 1}\right)}. \quad (40)$$